



ULANGAN AKHIR SEMESTER I
TINGKAT SD
Tahun Pelajaran 2012 – 2013

Mata Pelajaran : Matematika	Nama :
Kelas : I (satu)	No. Peserta :
Hari, tanggal :	Nilai :
Waktu :	Prf. Guru :

A. Berilah tanda silang (x) pada huruf a,b,c atau d untuk jawaban yang benar !

1.  Jumlah anak itik disamping adalah.....
a. 15 b. 12 c. 18 d. 14

2. **10** Lambang bilangan disamping dibaca.....
a. tujuh b. delapan c. sembilan d. sepuluh

3.  Berapa banyak stawberi disamping ?
a. tujuh b. delapan c. sembilan d. sepuluh

4. **3** **5** **4** **1** **2** Urutan dari yang terkecil adalah....
a. 54321 b. 32145 c. 12345 d. 43215

5. **5** **7** **8** **9** Berapakah urutan bilangan disamping.....
a. 4 b. 7 c. 8 d. 6

6. Ani mempunyai 10 buah buku tulis, diberikan kepada Ana 6 buah. Buku Ani sekarang sisa

- a. 4 b. 3 c. 2 d. 1

7. Hasil dari $9 - 5$ adalah.....
a. 4 b. 3 c. 2 d. 1

8. $17 + 7 =$
a. 20 b. 26 c. 22 d. 24

9. Anton memetik 9 buah mangga. Diberikan kepada Rudi 6 buah. Sisa mangga Anton sekarang buah.
a. 6 b. 5 c. 4 d. 3


10. 

Diatas meja ada 3 gelas teh. Diminum Ayah 1 gelas, berapakah sisa the yang ada diatas ?

- a. 4 b. 3 c. 2 d. 1

B. Isilah titik-titik di bawah ini dengan jawaban yang tepat !

- Jarum jam pada gambar disamping menunjukkan pukul.....
- Hari ini adalah hari senin, besok hari.....
- Sekarang hari rabu, dua hari yang lalu adalah hari.....
- Setelah bulan April adalah bulan.....



5. Wati belajar selama 1 jam

Nina belajar selama 3 jam

waktu belajar Nina lebih..... dari waktu belajar Wati.

6. Lebih ringan mana antara kapas dengan batu ?

7.



Lebih panjang manakah antara pensil dengan penggaris ?

8. Antara 20 km dengan 13 km, manakah yang lebih jauh ?

9.



Roda sepeda berbentuk.....

10.



A



B



C

Urutkan gambar buah diatas mulai dari yang terkecil !

...oooOOOooo...